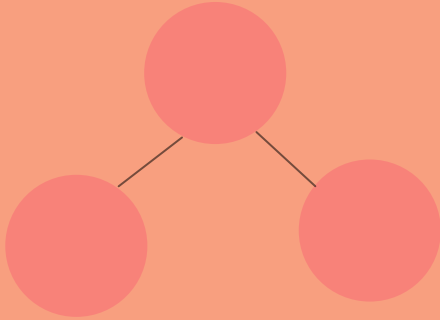


## COMPONER Y DESCOMPONER NÚMEROS

6 mariposas estaban volando y 4 de ellas se posaron en una flor.  
¿Cuántas mariposas quedaron volando?

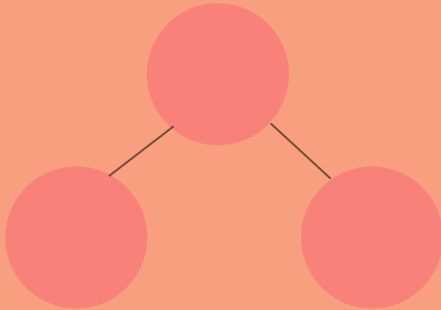
Realiza el ejercicio con la descomposición de números



Respuesta

Juan puso 5 globos rojos y 4 globos blancos en su mesa de cumpleaños.  
¿Cuántos globos colocó en total?

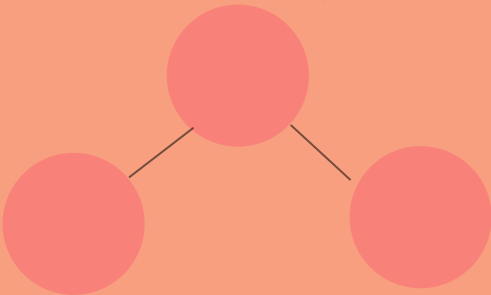
Realiza el ejercicio con la composición de números



Respuesta

María compró 5 manzanas y 10 peras en el supermercado. ¿Cuánta fruta compró en total?

Realiza el ejercicio con la composición de números



Respuesta